

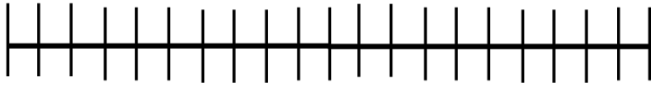
FIȘĂ DE LUCRU – Matematică










NUME:.....

DATA:.....

Numără decorațiunile de pe brad și notează-le în tabel.
Efectuează adunările conform modelului.

0 1 2 3 4 5 6 7 8 9 10 11 12 13 14 15 16 17 18 19 20



	?			
	2	$2+6=$	$2+1=$	
				
				
	3			
				
	6	$6+6=$	$6+1=$	
	1			$1+7=$
